

KVÍZ PRO PŘEDŠKOLÁKY 1

OBEC A PASTVINY

1 Co návštěvníci stezky nesmějí dělat? Nakresli alespoň 3 z činností, které jsou zakázané.

1

2

3

VLHKÁ LADA

2 Co k sobě patří? Spoj obrázky se stejnou rostlinou.



kosatec sibiřský



pcháč bahenní



blatouch bahenní




MOKŘAD

**4 Nakresli
potůček
Olšina.**

LES NA PODMÁČENÝCH STANOVIŠTÍCH

**3 Na kterém obrázku je sova
(kulíšek nejmenší)?** Zakřížkuj ho.



Obec a pastviny

2

NAUČNÁ STEZKA OLŠINA


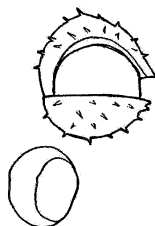
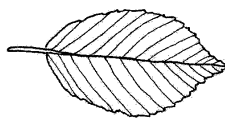
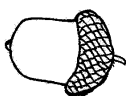
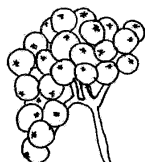
LES NA SUCHÝCH STANOVIŠTÍCH

5 Co patří k sobě? Spoj.




LESNÍ CESTA

6 Co k sobě patří? Spoj plod a list.



LOUKY A PASTVINY

7 Se kterým hospodářským zvířetem se můžeš potkat na pastvinách. Nakresli ho.



HRÁZ RYBNÍKA

8 Co patří k sobě? Spoj.



kapr obecný



lín obecný



štika obecná



amur bílý



KVÍZ PRO PŘEDŠKOLÁKY 2

OBEC A PASTVINY

1 Co návštěvníci stezky nesmějí dělat? Nakresli alespoň 3 z činností, které jsou zakázané.

1

2

3

VLHKÁ LADA

2 Co k sobě patří?

Spoj obrázky se stejnou rostlinou.



kosatec sibiřský



pcháč bahenní



blatouch bahenní



LES NA PODMÁČENÝCH STANOVIŠTÍCH

3 Co k sobě patří? Spoj.



racek chechtavý



volavka popelavá



ledňáček říční



MOKŘAD

4 Co k sobě patří? Spoj.



konipas bílý



červenka obecná



straka obecná



Obec a pastviny

4

NAUČNÁ STEZKA OLŠINA


LES NA SUCHÝCH STANOVIŠTÍCH

5 Nakresli rostlinu, kterou vidíš na obrázku



LOUKY A PASTVINY

7 Nakresli květinu, která se Ti líbí.



LESNÍ CESTA

6 Kterou houbu nemůžeme jíst, protože je jedovatá? Zakřížkuj ji.




hřib smrkový



muchomůrka červená

HRÁZ RYBNÍKA

8 Kde žijí? Spoj.



KVÍZ PRO ŠKOLÁKY 1

OBEC A PASTVINY

1 V jaké nadmořské výšce leží obec Olšina?

- a) 832 m n. m.
- b) 732 m n. m.
- c) 632 m n. m.

VLHKÁ LADA

2 Místo, které odvádí v době záplav a jarního tání přebytečnou vodu mimo rybník se nazývá:

- a) most
- b) propust
- c) obtoková (obtočná) stoka

LES NA PODMÁČENÝCH STANOVIŠTÍCH

3 Který z ptáků žijících u rybníka hnízdí v norách ve strmých březích vod?

- a) racek chechtavý
- b) ledňáček říční
- c) volavka popelavá

MOKŘAD

4 Bekasina otavní, která se vyskytuje na rašelinných loukách, je:

- a) brouk
- b) rostlina
- c) pták

LES NA SUCHÝCH STANOVIŠTÍCH

5 O lesích se říká, že jsou „plíce planety Země“. Proč?

- a) zadržují vodu v krajině
- b) jsou domovem mnoha rostlin
- c) jsou důležitým zdrojem kyslíku

LESNÍ CESTA

6 Napiš název alespoň 2 vrcholů, které můžeš vidět panoramatickým kukátkem.

.....

.....

.....

LOUKY A PASTVINY

7 Co návštěvníci stezky nesmějí dělat? Napiš alespoň 5 činností, které jsou zakázané.

1

2

3

4

5

HRÁZ RYBNÍKA

8 Rybník Olšina je:

- a) nejvýše položeným chovným rybníkem v Čechách
- b) nejnižše položeným chovným rybníkem v Čechách
- c) druhým nejvýše položeným chovným rybníkem v Čechách

KVÍZ PRO ŠKOLÁKY 2

OBEC A PASTVINY

- 1 Z jakého roku pochází první písemná zmínka o obci Olšina?**
- a) 1332
 - b) 1432
 - c) 1532

VLHKÁ LADA

- 2 Zkratka EVL označuje:**
- a) evropsky významnou lokalitu
 - b) území mezinárodního významu, které má vysokou přírodovědnou hodnotu
 - c) obě možnosti (a i b) jsou správně

LES NA PODMÁČENÝCH STANOVIŠTÍCH

- 3 Která z chráněných sov se vyskytuje v Ptačí oblasti Boletice?**
- a) jen kulíšek nejmenší
 - b) jen sýc rousný
 - c) kulíšek nejmenší i sýc rousný

MOKŘAD

- 4 Potok Olšina, který pramení ve Vojenském újezdu Boletice, se vlévá do:**
- a) řeky Vltavy
 - b) vodní nádrže Lipno
 - c) Plešného jezera

LES NA SUCHÝCH STANOVIŠTÍCH

- 5 Můžeme v rašelinném lese najít brusinky a borůvky?**
- a) ne
 - b) ano
 - c) jen borůvky

LESNÍ CESTA

- 6 V lese rostou:**
- a) jen jedlé houby
 - b) jen jedovaté houby
 - c) jedlé i jedovaté houby

LOUKY A PASTVINY

- 7 Co návštěvníci stezky nesmějí dělat? Napiš alespoň 5 činností, které jsou zakázané.**

1

2

3

4

5

HRÁZ RYBNÍKA

- 8 Co se skrývá pod těmito názvy?**
- a) *Cyprinus carpio*

.....

b) *Esox lucius*

.....

c) *Tinca tinca*

.....

KVÍZ PRO ŠKOLÁKY 3

OBEC A PASTVINY

1 V jaké nadmořské výšce leží obec Olšina?

- a) 832 m n. m.
- b) 732 m n. m.
- c) 632 m n. m.

VLHKÁ LADA

2 Vachta trojlistá je rostlina vyskytující se:

- a) na pastvinách
- b) v suchých lesích
- c) na zamokřených místech

LES NA PODMÁČENÝCH STANOVIŠTÍCH

3 Kopřiva dvoudomá je živnou rostlinou tohoto motýla

- a) modrásek bahenní
- b) žluťásek borůvkový
- c) babočka paví oko

MOKŘAD

4 Jak se nazývá velmi inteligentní pták, který často plení hnízda jiných ptáků?

- a) červenka obecná
- b) straka obecná
- c) konipas bílý

LES NA SUCHÝCH STANOVIŠTÍCH

5 Rostlina vyskytující se v lesích, která vypadá jako malý zelený jehličnatý stromek, se nazývá:

- a) bukvice lékařská
- b) přeslička lesní
- c) vrbina obecná

LESNÍ CESTA

6 V lese rostou:

- a) jen jedlé houby
- b) jen jedovaté houby
- c) jedlé i jedovaté houby

LOUKY A PASTVINY

7 Co návštěvníci stezky nesmějí dělat? Napiš alespoň 5 činností, které jsou zakázané.

1

2

3

4

5

HRÁZ RYBNÍKA

8 Napiš alespoň dva vrcholy, které můžeš vidět z hráze rybníka:

.....

.....

.....

MAPA STEZKY

A OBEC A PASTVINY

Sekundární stanoviště, která vznikla na místech původních lesů, jsou dlouhodobě udržována člověkem pravidelným obhospodařováním. Občas s výskytem druhů uniklých ze zahrad.

B VLHKÁ LADA

Zamokřené neobhospodařované louky se zapojenými porosty širokolistých vlhkomilných bylin vyššího vzrůstu. Na jaře obvykle zaplavované.

C MOKRÝ LES

Les rostoucí na podmáčených stanovištích v okolí rybníka, běžně tvořen náletovými dřevinami a křovinami.

D MOKŘAD

Zarostlé břehy rybníku Olšina s navazujícími trvale nebo sezónně podmáčenými a rašelinnými neobhospodařovanými loukami. Výskyt mnoha chráněných ptačích druhů.

E SUCHÝ LES

S rostoucí vzdáleností od rybníku a zvedajícím se terénem přechází rašelinný a podmáčený les v sušší stanoviště s odlišnou druhovou skladbou.

F LESNÍ CESTA

Nedílnou součástí lesa a lesního hospodaření je lesní cesta. V kalužích bývá často obydlena vzácnou faunou i flórou.

G LOUKY A PASTVINY

Nelesní biotopy s převažující travní vegetací, pravidelně obhospodařované louky pastvou nebo sečením.

H HRÁZ RYBNÍKA

Sypaná hráz o délce 400 m, která zadržuje nejvyšší položený chovný rybník v České republice. Na hrázi umístěna Rybářská bašta s trvalou expozicí.

LEGENDA:

 Nástupní místo

 Muzeum

 Číslování infopanelů

 Infocentrum

 Ubytování

 Infopanel

 Zajímavé místo

 Parkoviště

 Restaurace

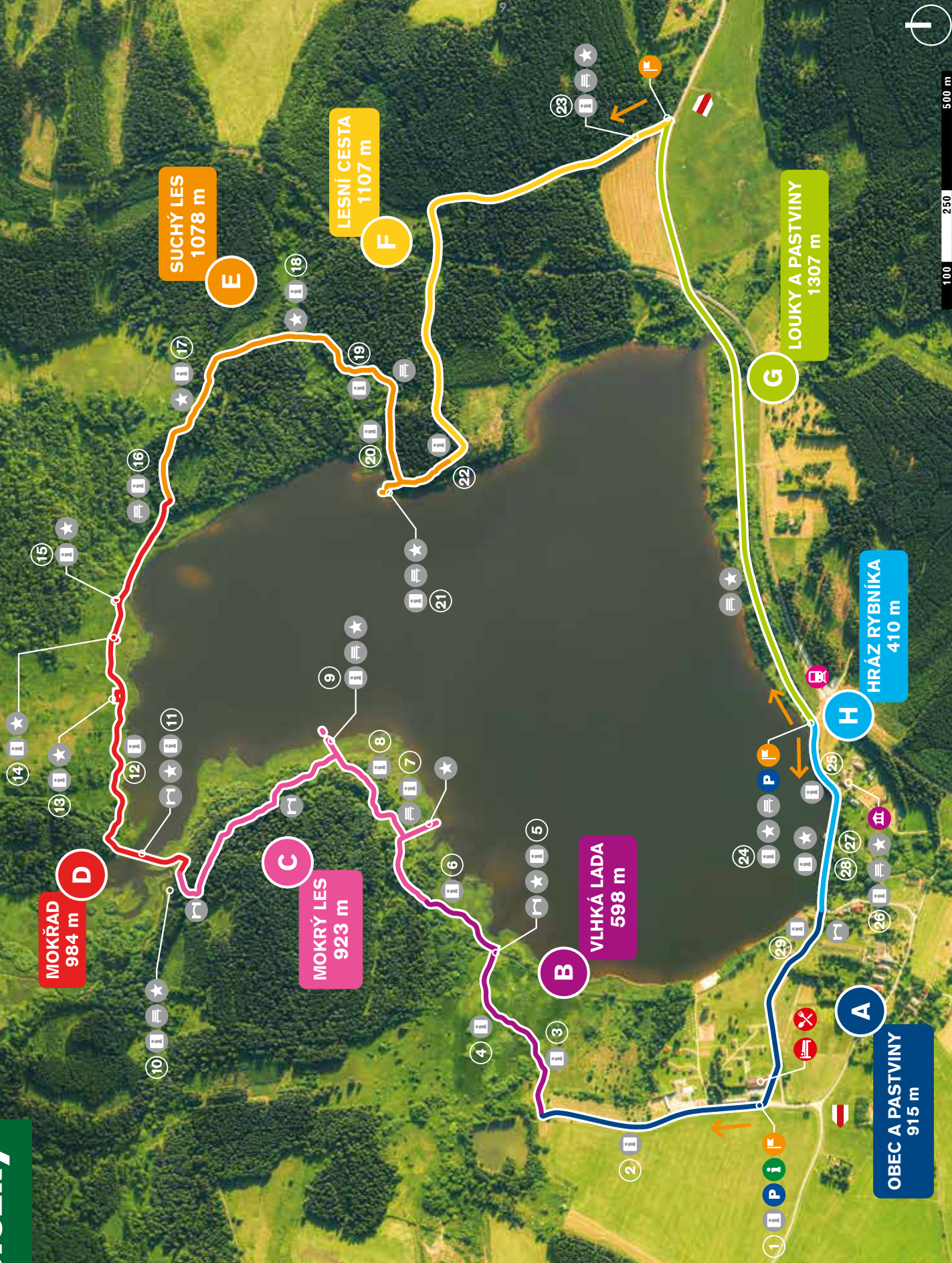
 Lavička/posezení

 Most/mostek

 Vlaková zastávka

 Turistická trasa

Mapa stezky



100 250 500 m

